

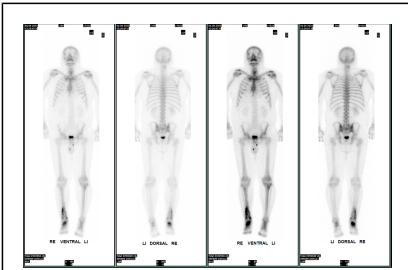
## **Fallbeschreibung**

Zu Ihnen kommt ein Patient, der über starke Schmerzen der rechten unteren Extremität klagt.

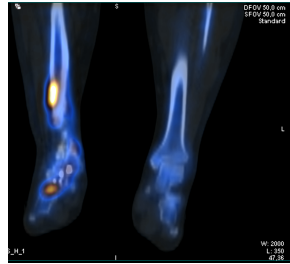
In der Anamnese erfahren Sie, dass vor 20 Jahren eine OSG-Arthrodeese stattgefunden hatte.

2021 mit nun Anschlussarthrose USG, subtalar sowie talonavicular

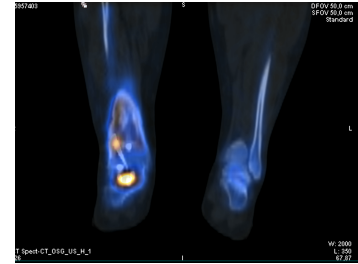
## Bildgebung



**Entzündung Szinti 09-23**



**SPECTCT Beine**



**SPECTCT\_2**

## Fragen zum Fall

1. Welches bildgebende Verfahren würde sich anbieten?

- A. Knochenszintigraphie
- B. PET/CT
- C. CT mit Kontrastmittel
- D. MRT
- E. Sonographie

2. Was sehen wir bei der Szintigraphie?

- A. Knochenstoffwechsel
- B. Knorpel
- C. Granulozyten
- D. Erythrozyten
- E. Thrombos

3. Welches weitere Verfahren wäre sinnvoll?

- A. SPECT/CT

## Diagnose des Falls

### Diagnose - ICD10

Chapter	ICD-10	Diagnose	In picture	Kommentar
XIII. Krankheiten des Muskel-Skelett-Systems und des Bindegewebes	M86.19	Akute Osteomyelitis	TBD	TBD

## **Richtige Antworten**

1. (A), 2. (A), 3. (A),

## **Fragen zum Fall mit Kommentaren**